
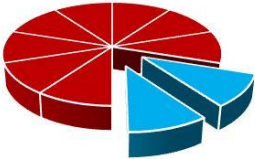

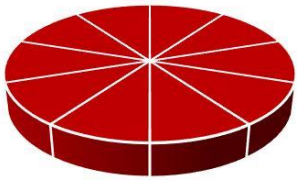


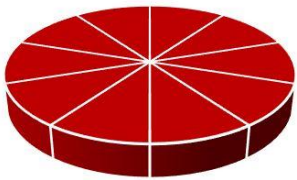





チョコレートケーキをたべよう！

月 日 曜日 なまえ

 <p>10</p> <p>チョコレートケーキ が 10 こ あります。</p>	—	 <p>2</p> <p>2 こ たべました。</p>	=	 <p>こ</p> <p>のこりは なんこ？</p>
---	---	--	---	---


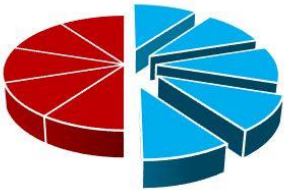

 <p>10</p> <p>チョコレートケーキ が 10 こ あります。</p>	—	 <p>1</p> <p>1 こ たべました。</p>	=	 <p>こ</p> <p>のこりは なんこ？</p>
---	---	--	---	---

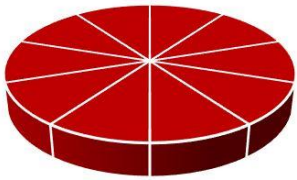


 <p>10</p> <p>チョコレートケーキ が 10 こ あります。</p>	—	 <p>3</p> <p>3 こ たべました。</p>	=	 <p>こ</p> <p>のこりは なんこ？</p>
---	---	--	---	---

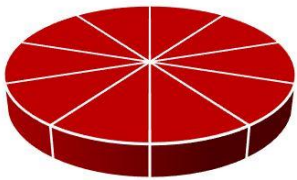
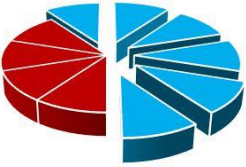




チョコレートケーキをたべよう！

月 日 曜日 なまえ

 <p>10</p> <p>チョコレートケーキ が 10 こ あります。</p>	—	 <p>5</p> <p>5 こ たべました。</p>	=	 <p>こ</p> <p>のこりは なんこ？</p>
---	---	--	---	---




 <p>10</p> <p>チョコレートケーキ が 10 こ あります。</p>	—	 <p>4</p> <p>4 こ たべました。</p>	=	 <p>こ</p> <p>のこりは なんこ？</p>
---	---	--	---	---




 <p>10</p> <p>チョコレートケーキ が 10 こ あります。</p>	—	 <p>6</p> <p>6 こ たべました。</p>	=	 <p>こ</p> <p>のこりは なんこ？</p>
---	---	--	---	---







チョコレートケーキをたべよう！

月 日 曜日 なまえ

 <p>10</p> <p>チョコレートケーキ が 10 こ あります。</p>	—	 <p>8</p> <p>8 こ たべました。</p>	=	 <p>こ</p> <p>のこりは なんこ？</p>
---	---	--	---	---


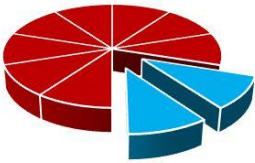
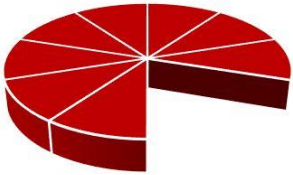
 <p>10</p> <p>チョコレートケーキ が 10 こ あります。</p>	—	 <p>7</p> <p>7 こ たべました。</p>	=	 <p>こ</p> <p>のこりは なんこ？</p>
---	---	--	---	---

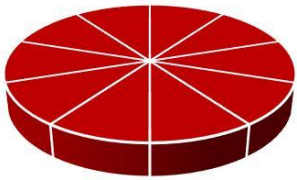
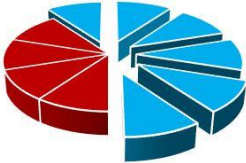

 <p>10</p> <p>チョコレートケーキ が 10 こ あります。</p>	—	 <p>9</p> <p>9 こ たべました。</p>	=	 <p>こ</p> <p>のこりは なんこ？</p>
---	---	--	---	---

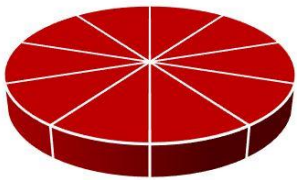





チョコレートケーキをたべよう！

月 日 曜日 なまえ

 <p>10</p> <p>チョコレートケーキ が 10 こ あります。</p>	—	 <p>2</p> <p>2 こ たべました。</p>	=	 <p>こ</p> <p>のこりは なんこ？</p>
---	---	--	---	---


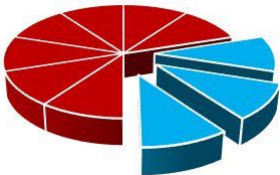

 <p>10</p> <p>チョコレートケーキ が 10 こ あります。</p>	—	 <p>6</p> <p>6 こ たべました。</p>	=	 <p>こ</p> <p>のこりは なんこ？</p>
---	---	--	---	---

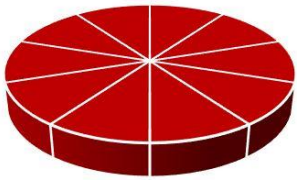


 <p>10</p> <p>チョコレートケーキ が 10 こ あります。</p>	—	 <p>8</p> <p>8 こ たべました。</p>	=	 <p>こ</p> <p>のこりは なんこ？</p>
---	---	--	---	---

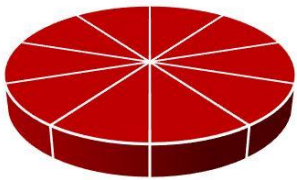
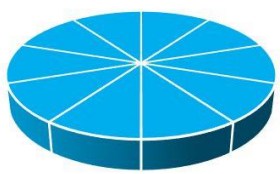


チョコレートケーキをたべよう！

月 日 曜日 なまえ

 <p>10</p> <p>チョコレートケーキ が 10 こ あります。</p>	—	 <p>3</p> <p>3 こ たべました。</p>	=	 <p>こ</p> <p>のこりは なんこ？</p>
---	---	--	---	---

 <p>10</p> <p>チョコレートケーキ が 10 こ あります。</p>	—	 <p>9</p> <p>9 こ たべました。</p>	=	 <p>こ</p> <p>のこりは なんこ？</p>
---	---	--	---	---

 <p>10</p> <p>チョコレートケーキ が 10 こ あります。</p>	—	 <p>10</p> <p>10 こ たべました。</p>	=	<p>こ</p> <p>のこりは なんこ？</p>
---	---	--	---	---------------------------